


Kommunizieren



www.lernfrosch.at

Schreibe die Aufgabe in dein Heft.
Deine Lösungen schreibe mit Farbe.
Finde die Lösungen.



Wie oft kommt 2 auf der Hundertertafel vor?

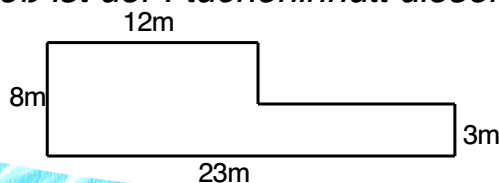
Wie oft kommt 5 auf der Hundertertafel vor?

www.lernfrosch.at

Schreibe die Aufgaben in dein Heft.
Deine Lösungen schreibe mit Farbe.
Finde die Lösungen.



Wie groß ist der Flächeninhalt dieser Figur? (Skizze!)



www.lernfrosch.at

Schreibe die Aufgaben in dein Heft.
Deine Lösungen schreibe mit Farbe.

Die Grafik zeigt 300 Deutschhefte und 450 Mathehefte.

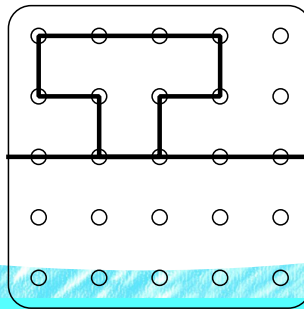


Wofür steht ein  ?



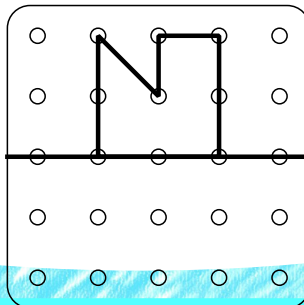
www.lernfrosch.at

Zeichne die Aufgabe in dein Heft und spiegle!
Deine Lösungen zeichne mit Farbe.



www.lernfrosch.at

Zeichne die Aufgabe in dein Heft und spiegle!
Deine Lösungen zeichne mit Farbe.



www.lernfrosch.at

Schreibe die Angabe in dein Heft.
Deine Lösungen schreibe mit Farbe.
Finde die Lösung und schreibe, was dir auffällt.



$$16 + 32 =$$

$$18 + 30 =$$

$$20 + 28 =$$

Schreibe 3 weitere passende Rechnungen!

www.lernfrosch.at

Schreibe die Angabe in dein Heft.
Deine Lösungen schreibe mit Farbe.
Finde die Lösung und schreibe, was dir auffällt.



$$15 + 15 =$$

$$30 + 16 =$$

$$46 + 17 =$$

Schreibe 3 weitere passende Rechnungen!

www.lernfrosch.at

Schreibe die Aufgabe in dein Heft.
Deine Lösungen schreibe mit Farbe.
Finde alle Lösung.



Wie viele und welche Lösungen gibt es für diese Rechnung?

$$58 - \underline{\quad} - \underline{\quad} = 48$$

Schreibe die Aufgabe in dein Heft.
Deine Lösungen schreibe mit Farbe.
Finde alle Lösung.



Wie viele und welche Lösungen gibt es für diese Rechnung?

$$55 - \underline{\quad} - \underline{\quad} = 45$$

Schreibe die Angabe in dein Heft.
Deine Lösungen schreibe mit Farbe.
Finde die Lösung.



*Karin rechnet $2 \cdot 12 = 22$.
Welchen Fehler hat sie gemacht? Was hat sie vergessen?*

Schreibe die Angabe in dein Heft.
Deine Lösungen schreibe mit Farbe.
Finde die Lösung.



*Milan rechnet $44 : 2 = 24$.
Welchen Fehler hat er gemacht? Was hat er vergessen?*

Schreibe die Aufgabe in dein Heft.
Finde die Lösung.



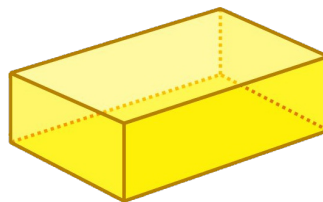

Zeichne 3 parallele Linien in dein Heft!

Schreibe die Aufgabe in dein Heft.
Finde die Lösung.

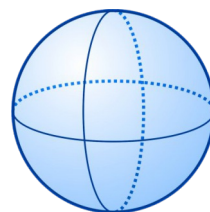
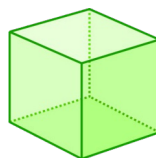
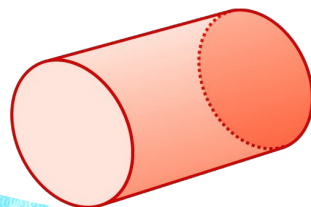


Zeichne eine Gerade in dein Heft. Zeichne dann einen roten Punkt auf die Gerade und ziehe eine Gerade im rechten Winkel, die durch den Punkt geht.

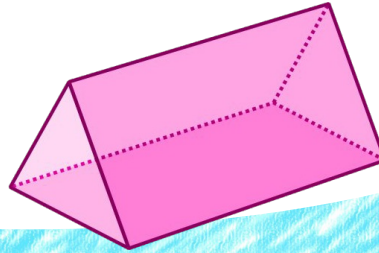
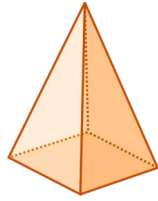
Schreibe und zeichne die Angabe in dein Heft.
Deine Lösungen schreibe mit Farbe.
Wie heißen diese Körper?



Schreibe und zeichne die Angabe in dein Heft.
Deine Lösungen schreibe mit Farbe.
Wie heißen diese Körper?

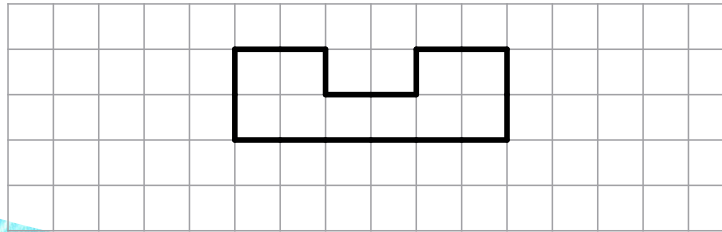


Schreibe und zeichne die Angabe in dein Heft.
Deine Lösungen schreibe mit Farbe.
Wie heißen diese Körper?



www.lernfrosch.at

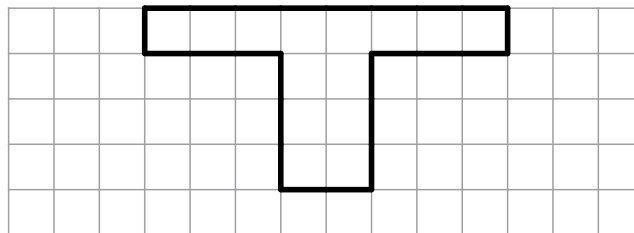
Zeichne die Figur in dein Heft und zeichne sie
mit Farbe doppelt so groß daneben.



Tipp: Zähle die Kästchen!

www.lernfrosch.at

Zeichne die Figur in dein Heft und zeichne sie
mit Farbe doppelt so groß daneben.



Tipp: Zähle die Kästchen!

www.lernfrosch.at