

Textaufgaben Brüche

Nimm dir eine Aufgabenkarte. Schreibe in dein Heft:


- ANGABE
- RECHNUNG
- ANTWORT

Maria kauft sich eine Pizza und isst davon $\frac{4}{8}$.

Sie gibt ihrem Bruder $\frac{1}{4}$.

Wie viel haben sie gegessen?

(TIPP: Zeichne die Pizza in **Achtel!**)




www.lemfrosch.at

Sina kauft sich eine Pizza und isst davon $\frac{1}{2}$.

Sie gibt ihrem Bruder $\frac{1}{4}$.

Wie viel haben sie gegessen?

(TIPP: Zeichne die Pizza in **Viertel!**)



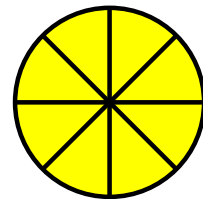
www.lemfrosch.at

Larissa kauft sich eine Pizza und isst davon $\frac{1}{2}$.

Sie gibt ihrem Bruder $\frac{2}{8}$.

Wie viel haben sie gegessen?

(TIPP: Zeichne die Pizza in **Achtel!**)



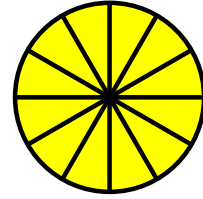
www.lemfrosch.at

Sara kauft sich eine Pizza und isst davon $\frac{3}{6}$.

Sie gibt ihrem Bruder $\frac{6}{12}$.

Wie viel haben sie gegessen?

(TIPP: Zeichne die Pizza in Zwölfstel!)




Lisa kauft sich eine Pizza und isst davon $\frac{6}{8}$.

Sie gibt ihrem Bruder $\frac{1}{16}$.

Wie viel haben sie gegessen?

(TIPP: Zeichne die Pizza in Sechzehntel!)

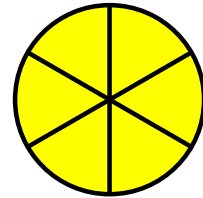


Sophie kauft sich eine Pizza und isst davon $\frac{3}{6}$.

Sie gibt ihrem Bruder $\frac{2}{4}$.

Wie viel haben sie gegessen?

(TIPP: Zeichne die Pizza in Sechstel!)

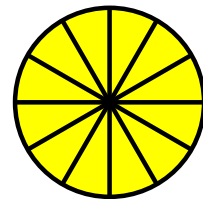


Ulla kauft sich eine Pizza und isst davon $\frac{7}{12}$.

Sie gibt ihrem Bruder $\frac{2}{6}$.

Wie viel haben sie gegessen?

(TIPP: Zeichne die Pizza in Zwölfstel!)

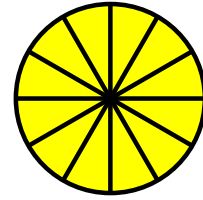


Sara kauft sich eine Pizza und isst davon $\frac{3}{6}$.

Sie gibt ihrem Bruder $\frac{6}{12}$.

Wie viel haben sie gegessen?

*(TIPP: Zeichne die Pizza in **Zwölfstel!**)*




Tara kauft sich eine Pizza und isst davon $\frac{1}{2}$.

Sie gibt ihrem Bruder $\frac{1}{8}$.

Wie viel haben sie gegessen?

*(TIPP: Zeichne die Pizza in **Achtel!**)*

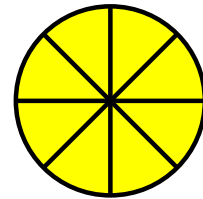


Melina kauft sich eine Pizza und isst davon $\frac{3}{4}$.

Sie gibt ihrem Bruder $\frac{1}{8}$.

Wie viel haben sie gegessen?

*(TIPP: Zeichne die Pizza in **Achtel!**)*



Karla kauft sich eine Pizza und isst davon $\frac{1}{2}$.

Sie gibt ihrem Bruder $\frac{1}{4}$.

Wie viel haben sie gegessen?

*(TIPP: Zeichne die Pizza in **Viertel!**)*

